

Sudety

17.04.2009 r. — część pisemna

1. W krypcie pod kościołem został pochowany arcybp Arnošt z Pardubic, a w kościele jest jego płyta nagrobna i posąg. O którym mieście mowa?
 - a. Otmuchowie,
 - b. Nysie,
 - c. Kłodzku,
 - d. Jeleniej Górze.

2. Książę Bolko I świdnicki był synem:
 - a. Bolesława Rogatki,
 - b. Henryka Pobożnego,
 - c. Henryka Prawego (Probusa),
 - d. Władysława Wygnańca.

3. Zaznacz prawidłową kolejność chronologiczną wydarzeń:
 1. przejście księstw śląskich pod władzę czeską,
 2. walki o władzę między Maciejem Korwinem a Jerzym z Podiebradów,
 3. wojny husyckie,
 4. śmierć ostatniego Piasta legnicko-brzeskiego,
 - a. 4 – 1 – 2 – 3,
 - b. 1 – 3 – 2 – 4,
 - c. 3 – 2 – 4 – 1,
 - d. 3 – 4 – 1 – 2.

4. Tablica upamiętniająca miejsca spotkań Solidarności polsko–czesko-słowackiej w latach 1987-1990 znajduje się:
 - a. na Stogu Izerskim,
 - b. przy schronisku „Andrzejówka”,
 - c. na Hali pod Śnieżnikiem,
 - d. Na Borówkowej w Górach Złoty.

5. Wybierz poprawne przyporządkowanie postaciom nazw miejscowości, w których działały:

1. Walentin Trozendorf
 2. Marianna Orańska
 3. Innocenty Fritsch
 4. Fryderyk von Reden
- a. 1 – Grodziec, 2 – Stronie Śląskie, 3 – Henryków, 4 – Kłodzko,
 - b. 1 – Złotoryja, 2 – Kamieniec Ząbkowicki, 3 – Krzeszów, 4 – Bukowiec,
 - c. 1 – Chojnik, 2 – Lubań, 3 – Ząbkowice Śląskie, 4 – Złotoryja,
 - d. 1 – Wałbrzych, 2 – Międzygórze, 3 – Cieplice, 4 – Sobótka.

6. Przełęcz Trzech Dolin znajduje się w Górach:

- a. Sowich,
- b. Masywie Śnieżnika,
- c. Górach Suchych,
- d. Górach Kruczych.

7. Góry Żelazne to część

- a. Krowiarek,
- b. Gór Kaczawskich,
- c. Gór Kamiennych,
- d. Gór Orlickich.

8. Z wymienionych miejsc i obiektów najwyżej n.p.m. leży:

- a. Zamek Chojnik,
- b. Samotnia,
- c. Stóg Izerski,
- d. Przełęcz Okraj.

9. Dolina Nysy Kłodzkiej w Górach Bardzkich to:

- a. przełom epigenetyczny,
- b. przełom antecedentny,
- c. przełom strukturalny,
- d. dolina polodowcowa.


10. Góry: Okolę, Maślak, Baraniec, Połom znajdują się w:

- a. Górach Bystrzyckich,
- b. Rudawach Janowickich,
- c. Górach Sowich,
- d. Kaczawskich.

11. Mensa to:


- a. misa do obmywania rąk,
- b. element ubioru kapłana,
- c. obrusik do nakrywania kielicha,
- d. wierzchnia, kamienna płyta ołtarza z wmurowanymi relikwiami.

12. Przedstawione na poniższych rysunkach przykłady różnych portali są ustawione w kolejności:



- a. renesansowy, romański, gotycki, romański,
- b. renesansowy, gotycki, barokowy, romański,
- c. barokowy, gotycki, renesansowy, romański,
- d. barokowy, romański, renesansowy, gotycki/

13. Rysunek przedstawia kilkakrotnie przebudowywany kościół. Wybierz wersję, w której poprawnie określono styl poszczególnych fragmentów budowli




- a. romańskie prezbiterium, gotycki korpus, późnogotycka kaplica, klasycystyczna kruchta,
- b. romańskie prezbiterium, gotycki korpus, manierystyczna kaplica, barokowa kruchta,
- c. gotycka prezbiterium, późnogotycki korpus, renesansowa kaplica, klasycystyczna kruchta,
- d. romańskie prezbiterium, gotycki korpus, renesansowa kruchta, neogotycka kaplica.

14. Jakim celem w klasztorze służy refektarz?

- a. spożywaniu posiłków,
- b. prowadzeniu rozmów z osobami spoza klasztoru,
- c. jest miejscem obrad zakonników,
- d. to sala wspólnej pracy zakonników.

15. Postać na zdjęciu – skąpo odziany mężczyzna z kosturem, mocno uginający się pod ciężarem dźwiganego dziecięcia z aureolą, to:

- a. św. Mikołaj,
- b. św. Wit,
- c. św. Krzysztof,
- d. św. Jerzy.

**16. Piętro subalpejskie w Karkonoszach występuje na wysokości:**

- a. 1000-1250 m n.p.m.,
- b. 1250-1450 m n.p.m.,
- c. powyżej 1450 m n.p.m,
- d. w Karkonoszach nie występuje.

17. Rezerwat przyrody „Wąwóz Myśluborski” znajduje się:

- a. w Masywie Ślęży,
- b. na Pogórzu Wałbrzyskim,
- c. na Wzgórzach Strzelińskich,
- d. na Podgórzu Kaczawskim.

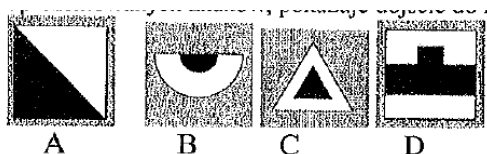
18. W Sudetach Środkowych istnieją następujące parki krajobrazowe (PK):

- a. PK Doliny Bystrzycy, Książański PK, Ślęzański PK,
- b. PK Gór Sowich, Książański PK, PK Sudetów Wałbrzyskich,
- c. PK Doliny Pełcznicy, Sowiogórski PK, PK Gór Bystrzyckich,
- d. PK Doliny Bystrzycy, PK Gór Sowich, Stołowogórski PK.


19. Aby móc obserwować kwitnący pełnik europejski (kłodzką różę), należy wybrać się na wycieczkę w okresie:
- luty – marzec,
 - kwiecień,
 - maj – czerwiec,
 - lipiec – sierpień
20. W roku 2009 Karkonoski Park Narodowy obchodzi rocznicę powstania:
- dwudziestą,
 - trzydziestą,
 - czterdziestą,
 - pięćdziesiątą.
21. Który rok zawiera się w niniejszym chronostychu?

HONORI
SANCTI IOANNIS NEPO:
ERIGIT
SERVVS PERPETVVS A
IOANHES IOSEPVVS
COMES DE GOTZEN

- 1731,
 - 1733,
 - 1735,
 - 1736.
22. „*Na słowiańskiej góry szczycie pod jasną nadziei gwiazdą...*” to pierwsze słowa poematu wpisane w księgę schroniskowej:
- Strzechy Akademickiej przez Romana Zmorskiego,
 - Śnieżki przez Bogusza Zygmunta Stęczyńskiego,
 - Ślęży przez Bogusza Zygmunta Stęczyńskiego,
 - Ślęży przez Romana Zmorskiego.
23. Który z prezentowanych znaków, pokazuje dojście do źródła?



24. Kto z XIX-wiecznych gości uzdrowiska w Cieplicach Śl. jest autorem pisanej relacji pt. „Dyliżansem przez Śląsk. Dziennik podróży do Cieplic w roku 1816”?
- Kornel Ujejski,
 - Izabela Czartoryska,
 - Wincenty Pol,
 - Michał kard. Radziejowski.
25. Tzw. „kierunek sudecki” określają azymuty:
- $0^\circ - 180^\circ$,
 - $45^\circ - 225^\circ$,
 - $90^\circ - 270^\circ$,
 - $135^\circ - 315^\circ$
26. Który z wymienionych obiektów nie znajduje się na Szlaku Zamków Piastowskich?
- Homole,
 - Wleń,
 - Bolków,
 - Grodziec.
27. Wybierz prawidłowe objaśnienie kolejnych znaków drogowych.
- zakaz zatrzymywania się,
 - strefa ograniczonej prędkości,
 - zakaz wjazdu pojazdów o wys. ponad 3,5m,
 - zakaz wjazdu autobus,
- A – B – C – D,
 - B – C – A – D,
 - C – D – A – B,
 - D – C – B – A.



28. Co należy zrobić, w pierwszej kolejności, po oparzeniu?
- podać środki przeciwbólowe,
 - założyć jałowy opatrunek,
 - schłodzić oparzone miejsce zimną wodą,
 - unieruchomić oparzoną kończynę.

29. Wzywając pomoc w górach należy wysłać sygnały dźwiękowe lub świetlne w częstotliwości:
- 6 razy na minutę w odstępach 10-sekundowych, po czym następuje minutowa przerwa,
 - 6 razy na minutę w odstępach 10-sekundowych, ciągle bez przerwy,
 - 3 razy na minutę w odstępach 20-sekundowych, po czym następuje minutowa przerwa,
 - 3 razy na minutę w odstępach 20-sekundowych, ciągle bez przerwy.
30. Nie wolno prowadzić górskich wycieczek z młodzieżą:
- w okresie zimy,
 - podczas burzy, śnieżycy i gołoledzi,
 - od 15.X do 15.IV,
 - powyżej 1000 m n.p.m.